

高三历史学科 试题

考生须知：

- 1.本试题卷分选择题和非选择题两部分，共6页，满分100分，考试时间90分钟。
- 2.答题前，在答题卷指定区域填写班级、姓名、考场号、座位号及准考证号。
- 3.所有答案必须写在答题卷上，写在试卷上无效。
- 4.考试结束后，只需上交答题卷。

选择题部分

一、选择题（本大题共25小题，每小题2分，共50分。每小题列出的四个备选项中只有一个是符合题目要求的，不选、多选、错选均不得分）

- 1.郑国，春秋初年即有宗室共叔段据京为乱之祸，之后七家卿大夫掌权，轮流执政，政局经历了一段时间的安宁之后，到战国时，相邦子阳一度夺取了郑国君位。这反映了
 - A. 阶级矛盾异常尖锐
 - B. 诸侯国间兼并战争频繁
 - C. 传统礼制受到挑战
 - D. 官僚政治取代贵族政治
- 2.汉文帝于前元二年创立了举“贤良方正能直言极谏者”的制度。下列关于汉代“贤良”的说法，不正确的是
 - ①汉武帝曾下诏策试贤良
 - ②由中正官依据评定的等级举荐
 - ③最初的标准是有德行和才能
 - ④“贤良”的设立加强了对地方的监察
 - A. ①③
 - B. ①②③
 - C. ②④
 - D. ②③④
- 3.韩愈生活的时代，面临两个重大问题，一是藩镇割据，人心的涣散消沉；二是宗教大盛，道教被立为国教，佛教也被大力提倡。为此，他
 - A. 特别强调“知行合一”
 - B. 完成了重建儒家信仰的理论任务
 - C. 提出儒家“道统”思想
 - D. 提出从“性命之源”来理解孔子之道
- 4.北宋著名私人藏书家叶梦得藏书量曾达到10万卷，而当时北宋中央政府的藏书才不过30669卷。造成这种现象的主要原因是
 - A. 中央集权的衰弱
 - B. 诗词创作平民化
 - C. 官办教育的削弱
 - D. 印刷术的普及化
- 5.元代行省例设丞相、平章、右丞、左丞、参政等六七名正副长官，举凡钱粮、兵甲、屯种、漕运等军国重事，无所不辖。可以说，元行省在中央与地方的权力结构中充当了分寄与集权的枢纽。由此可知，元代
 - A. 明确划分了中央与地方权限
 - B. 强化了君主专制
 - C. 消除了地方分裂割据的根源
 - D. 赋予地方部分权力
- 6.明代弘治年间，苏州府的盛泽形成村落，居民五六十家，嘉靖年间成为市集，居民达到数百家，以绫绸为业，随着绫绸业的发展，“日繁民齿，声文过昔”。这说明
 - A. 工商业市镇经济繁荣
 - B. 草市已经演化为地方商业中心
 - C. 丝织业区域分工形成
 - D. 人口增长推动农村贸易网络化

7.浙东学派的学术研究以史学为中心，在历史编撰、史论和史料学方面都有重要贡献，具有不尚空言、注重实践、治学严谨、考证精详等特点。下列项属于浙东学派学者代表作的是

- A. 《日知录》
- B. 《明夷待访录》
- C. 《船山遗书》
- D. 《王文成公全书》

8.1683年，清廷复准福建、广东，许用载五百石以下船只出海贸易，并设满汉海税监督各一人。这一政策

- A. 限制了朝贡贸易
- B. 顺应了历史发展的潮流
- C. 解决了满汉矛盾
- D. 促进了统一台湾的进程

9.列强入侵造成了近代中国深重的民族危机。下列图中地点与相关事实对应正确的一项是



- A. ①地为《马关条约》开放的通商口岸
- B. ②地为近代中国第一个不平等条约的签署地
- C. ③地园林内珍宝在1860年被日军洗劫一空
- D. ④地为近代中国第一批被迫开放的通商口岸

10.魏源十分欣赏英国“国中宗室大臣皆坐而议政”之风，在《圣武记》中多次赞誉清朝兴起初期八大王坐而议政之事，将两者等同视为传统“王道”政治的体现。据此可知，魏源

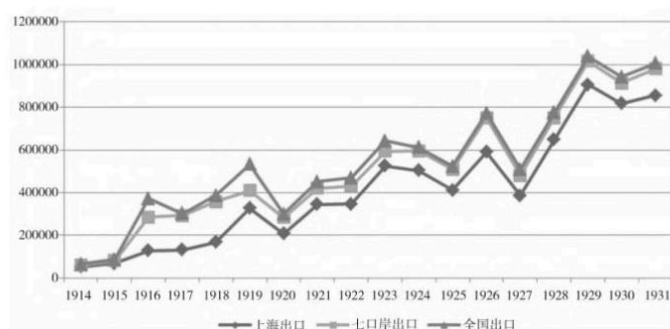
- A. 抛弃了天朝上国观念
- B. 广泛关注外部世界的变化
- C. 推崇英国君主立宪制
- D. 从中国视角解读西方文化

11.右图是《北京画报》刊出的新闻报道《女学传习所开学情形》，图中的文字为：“十二点钟……男女宾客，约有五百人，其中有端午帅、戴尚书、唐春卿侍郎……是日都登台演说，直到四点钟才散”。此画反映

- A. 教育近代化的历程开启
- B. 近代社会风气渐趋开放
- C. 晚清官僚强力推动移风易俗
- D. 通俗性报刊满足了民众休闲需求



12.下表为我国机器出口数据演变图（单位：关平两），对此分析恰当的是



- A. 中国自然经济解体的速度进一步加快
- B. 一战以后中国轻重工业总体协调发展
- C. 中国成为西方的原料产地和商品市场
- D. 近代中国机器制造业不断纳入世界市场

13. 1938年2月，张自忠率第59军向淮北日军发起反击，将日军逼向淮河北岸。日军因腹背受敌，无力再向北进攻，于是全部退回淮河南岸，3月14日，张自忠又率军强度临沂北郊的沂河，向敌发起反击。经数日激战，日军被击退。对与上述战斗直接相关的会战解读正确的是

- A. 发生在枣宜地区
- B. 取得抗战以来正面战场的最大胜利
- C. 抗战进入战略相持阶段
- D. 打破了日军三个月灭亡中国的计划

14. 右图是20世纪50年代江苏苏纶纱厂举办的公私合营签字仪式。公私合营

- A. 发生在大跃进时期
- B. 为制定“一五”计划创造了条件
- C. 建立了现代企业制度
- D. 促进了社会主义制度的建立



15. 在《解放思想，实事求是，团结一致向前看》这篇政治报告中，邓小平同志将解放思想提升到政治高度，使其成为改革开放一以贯之的思想路线。邓小平在这一政治报告中


- ①提出经济体制改革的任务
 - ②科学评价了毛泽东的历史地位
 - ③提出发展才是硬道理
 - ④提出加强社会主义法制的思想
- A. ①③ B. ①④ C. ②④ D. ①③④

16. 普罗塔戈拉(前481—前411)是古希腊著名的哲学家、早期智者派的主要代表。普罗塔戈拉生活的神墙时代

- ①西方人文精神滥觞
 - ②斯多亚学派兴起
 - ③希腊社会进入“古典时代”
 - ④雅典为参加政治活动的公民发放津贴
- A. ①② B. ①②③ C. ①③④ D. ②③④

17. 右图是1513年达·芬奇创作的自画像，这幅自画像中的达·芬奇戴着一顶帽子，头发散落下来，长须垂至胸前，眼神冷峻、眉头微蹙。这反映了当时


- A. 现实主义绘画彰显个性
- B. 教权主义受到了沉重打击
- C. 以人为中心的自我意识
- D. 人文主义从质朴走向高雅



18. 在人类历史上，奴隶贸易写下了耻辱的一页。戈雷岛就是这种特殊的海运贸易形式的重要中转站。下列中，与戈雷岛相关的表述正确的有

- ①是东部非洲“三角贸易”的历史见证
- ②是距离北美大陆最近的岛屿
- ③岛上最引人注目的是英国殖民者在18世纪修筑的奴隶堡
- ④15至19世纪相继被葡萄牙、荷兰、英国、法国等国占领

- A. ①③ B. ②④ C. ③④ D. ①③④

19. “这位德国物理学家发现了热辐射过程中的能量分布规律，他的理论彻底改变了人类对原子与次原子的认识”。下列项中，关于“他的理论”表述正确的有
- A. 为原子能的利用奠定了基础 B. 揭示了空间、时间的可变性
C. 根本改变了近代物理学中的传统观念 D. 成功解释了引力红移现象
20. 二月革命之后，列宁回到俄国并草拟了一份文件。在这份文件中，他提出“要缔结真正民主的非强制的和约来结束战争，就非推翻资本不可”，不要议会制共和国，而是要建立能代表工人、雇农和农民的苏维埃共和国。这份文件
- A. 提出变帝国主义战争为国内战争的策略 B. 是政治经济学中的一次革命
C. 为进行社会主义建设提供了理论根据 D. 系统论述了马克思主义国家学说
21. 《全国工业复兴法》被学者称为“罗斯福新政规划实验的核心”，它试图避免“恶性竞争让产业经济的灾难恶化”。《全国工业复兴法》
- ①给工人集体谈判的权利 ②规定了最高工时和最低工资
③将生产的各个环节置于国家监督之下 ④规定要缩减政府开支
- A. ①② B. ①②③ C. ③④ D. ①③④
22. “珍珠港事件爆发 6 个月后，日军大本营下达进攻命令，企图为日本海军航空兵获得前进基地，继续向中太平洋和西南太平洋扩张，同时诱歼美国太平洋舰队。经此战，日本海军损失了 4 艘重型航母、1 艘重型巡洋舰；美军总共损失了 1 艘航母、1 艘驱逐舰”。对这次战役解读正确的有
- ①太平洋战争出现转折 ②美日双方的兵力对比极为悬殊
③日军的海空军主力基本被消灭 ④从南面切断日本本土与外界联系
- A. ①② B. ①③ C. ②③ D. ②③④
23. 右图是创作于 1948 年的漫画，画中北极熊为苏联，“BERLIN”意为柏林。该漫画意在强调
- A. 苏联在美苏争霸中处于优势地位
B. 民主德国受到了苏联的控制
C. 柏林墙成为德国分裂的象征
D. 苏联威胁西方国家在柏林的占领区
- 
24. 2020 年 11 月 15 日，《区域全面经济伙伴关系协定》签署，全球体量最大的自由贸易区 RCEP 宣告诞生。其成员国包括东盟 10 国和中国、日本、韩国、澳大利亚、新西兰。RCEP 要求成员国均承诺降低关税、开放市场、减少标准壁垒。RCEP 的沈蕾签署
- ①促进区域贸易自由化 ②表明多边主义面临挑战
③扩大了亚太经合组织 ④推动了经济全球化进程
- A. ①② B. ①④ C. ②③④ D. ①③④
25. 唐代韩愈之子韩昶的《自为墓志铭并序》记载其辞世情况：“大中九年六月三日寝疾，八日终于任，年五十七。其年十二月十五日，葬孟州河阳县尹村”。南宋抗金名相赵鼎的自传《自志笔录》叙述了其一生的履历，其叙述临终前的状况说：“乙丑二月一日渡海，二十五日至吉阳军。丙寅十一月得疾。丁卯八月十二日终于贬所，寿六十三”。由此可见
- A. 自传需得到官方史书印证，才能确定记述的真伪
B. 墓志铭在未经原撰写者授意的情况下被增改伪托
C. 墓志铭是对墓主人经历的客观记述，故能真实反映历史
D. 自传作者有意隐瞒自己的某段人生经历，造成隐讳失实

二、非选择题（本大题共4小题，共50分）

26.（10分）阅读材料，回答问题。

材料一 万隆会议是在困难和复杂的条件下召开的。在29个与会国中，有社会主义国家，有参加美国拼凑的《马尼拉条约组织》和《巴格达条约组织》的国家，有中立的民族主义国家；有与我建交、对我友好的国家，有未与我建交、对我不好甚至敌视的国家。就在会议可能偏离正轨、步入歧途和争执不下、陷入僵局的关头，周总理先后发表了三次极具针对性和说服力的重要讲话，会议主要根据周总理的建议最后通过“十项原则”，既包含了“五项原则”的全部内容，又使原来不同意将“五项原则”原文写进会议文件的与会者感到满意。

——尹承德《世界风云纵览：中国外交与国际问题探析》

材料二 1972年的中美公报第一部分阐明了双方就重大国际问题各自的立场和看法；第二部分双方确认了中美关系的建立基础和共同原则；第三部分写明了台湾问题双方的立场。中美两国虽未建立正式外交关系，但双方保持了愿意进一步改善和发展关系的势头。

——张保军《论中美关系的解冻》

（1）根据材料一并结合所学，从国际背景的角度，说明万隆会议的“困难和复杂”，指出中国在万隆会议中推动会议顺利进行作出的外交贡献。（5分）

（2）根据材料二并结合所学，指出“公报”发表的地点（城市），并说明美国在“公报”中对台湾问题所持的立场。分析这一“公报”的发表对中美关系发展的重要意义。（5分）

27.（10分）阅读材料，回答问题。

材料一 克伦威尔的独裁统治正是英国当时政治、经济及各方面状况综合而形成的合乎逻辑的结果，而且是符合处于上升时期的新的生产力代表者的利益。当时英国的金融贵族、农业贵族、商人以及那些靠购买爱尔兰和苏格兰地产而发财神墙的人，连同革命中的受益者和军政要员，需要使其生活进入他们预想的秩序之中。当时封建王党势力蠢蠢欲动，下层人民群众欲继续革命

——摘编自张庆海《关于克伦威尔的评价问题》

材料二 他说，当政府与人民发生冲突时，“人民是最高的裁判官”。一个国家绝不能听任统治者凭个人意志实行专制统治，必须制定人人都要遵守的法律，统治者也只能根据法律进行统治。他提出了政权分散、互相制约的“分权”学说，主张国家的立法权、行政权和外交权分由不同的部门掌握。

——张志伟、马丽《西方哲学导论》

（1）根据材料一并结合所学，从政治、经济的角度，概括说明克伦威尔独裁统治的建立是“合乎逻辑”的结果。指出克伦威尔领导的资产阶级革命对世界历史发展的划时代影响。（5分）

（2）材料二中的“他”是哪一位启蒙思想家，指出其历史地位。概括材料二中“他”的启蒙思想。（5分）

28.（15分）历代文化名人为传承与发展中华文化做出了重要贡献，阅读材料，回答问题。

材料一 战国末年，百家争鸣的局面就已经夕阳西下。荀子的出现是一个标志。不仅荀子本人的学说横扫百家而又兼赅百家，反映天下“百虑而一致，殊途而同归”的学术发展趋势；荀子提出的“以圣王之制为法”、“学至于圣而止矣”的思想，也应该说直接地是董仲舒“罢黜百家，独尊儒术”的前驱先路。“罢黜百家，独尊儒术”对发展文化学术的作用是两重性的。儒是一种学说，一种思想。从这方面说，汉武帝尊儒是以儒家的思想作为社会的统治思想，有钳制学术思想的作用。

——摘编自金春峰《论董仲舒思想的特点及其历史作用》

材料二 魏良辅经过长期的实践和研究，在张野塘等人的大力协助下，对昆山腔进行了全面改革，他采取“兼收并蓄”的方式，一方面吸收南曲的长处，发挥昆山腔自身流丽悠远的特色；另一方面采纳北曲的特点，从而造成了集南北曲优点于一体的“水磨调”。到了隆庆末年，昆腔从清唱形式走上更为广阔的戏剧舞台。

——于海广《中国的世界非物质文化遗产》

材料三 新文化运动反传统的焦点是孔教。陈独秀认为：“文明进化之社会，其学说之兴废，恒时时视其社会之生活状态为变迁”，“‘孔教’本失灵之偶像，过去之化石。”“儒者以纲常立教，为人子为人妻者，既失个人之独立人格，复无个人独立之财产。”李大钊断言：“孔子者，历代帝王专制之护符也。”

《红旗谱》通过朱老忠这个农民英雄从自发反抗走上自觉革命道路的历程，生动地展示了大革命前后阶级斗争与革命运动的壮丽图景。《红日》通过众多英雄事迹表讲述了解放战争中莱芜、孟良崮这两个战役。《红岩》以解放战争时期的敌我斗争为主线，成功地塑造了许云峰、江姐等一系列共产党员的英雄形象。“三红”均成书于1957—1961年间。

——摘编自龚书铎《“五四”时期的反传统》、张冉冉《中国现当代文学精品导读》

(1) 根据材料一，从荀子学说的角度，指出战国时代百家争鸣局面“夕阳西下”的表现，结合所学，分析汉武帝“尊儒”对学术文化发展的影响。(5分)

(2) 根据材料二并结合所学，说明魏良辅在造就“水磨调”过程中对北曲优点的吸纳之处，指出隆庆末年对昆曲“从清唱形式走上更为广阔的戏剧舞台”做出重要贡献的人物。(5分)

(3) 阅读材料三，结合所学，请选择阐释：①指出先进知识分子“反传统”的直接原因，并概述其理由，说明当时“反传统”存在的问题。②概括“三红”的特点，并分析“三红”成书的时代背景。(5分)

29. (15分) 科技进步极大地改变着人类社会的面貌，阅读材料，回答问题。

材料一 惠特尼生前不可能意识到他的业绩对美国历史发展的巨大影响，他的发明使得南方的经济变成依赖于种植棉花的经济，而这又导致了需要更多的奴隶，这就是一个直接引起1861年南北战争的起因。同时，他神墙创造的生产方法也帮助北方奠定了发展工业实力的基础，使其能够在那次大规模的战斗中打败南方，保存了美国。

——刘秦《发明家与发明》

材料二 1893年，福特发明了世界上第一辆以汽油为动力的汽车。七年后，汽车开始大量生产，人类进入汽车时代。1903年，莱特兄弟在北卡罗来纳州凯蒂霍克海滩的飞行，是人类历史上的首创。经过十年的动荡发展期，第一次世界大战带来了航空业的快速发展，并在实践中得以应用。

——姜振寰《科学技术史》

材料三 1950年，计算机科学先驱阿兰·图灵预测，到2000年电子计算机就可以思考。1956年，在达特茅斯会议上，研究者提出创造一个人工大脑，人工智能领域就此诞生。1980年左右，“专家系统”的概念被计算机公司广泛应用，这是人工智能探索的开端。

——[美]小西奥多·希克《做哲学 88个思想实验中的哲学导论》

(1) 根据材料一并结合所学，指出惠特尼的发明及其创造的“生产方法”，并概述其对美国历史发展的影响。(5分)

(2) 根据材料二并结合所学，说明19世纪末20世纪初汽车工业、航空工业产生和发展的历史条件，并从交通与世界经济的角度，分析当时汽车工业、航空工业产生和发展对人类文明进程的影响。(6分)

(3) 指出世界上第一台电子计算机诞生于哪一国家，哪一年？根据材料三并结合所学，简要说明“人工智能”的含义。(4分)