

高三年级历史学科

考生须知：

1. 本卷满分 100 分，考试时间 90 分钟；
2. 答题前，在答题卷指定区域填写学校、班级、姓名、试场号、座位号及准考证号；
3. 所有答案必须写在答题卷上，写在试卷上无效；
4. 考试结束后，只需上交答题卷。

一、选择题（本大题共 25 小题，每小题 2 分，共 50 分。每小题列出的四个备选项中只有一个是符合题目要求的，不选、多选、错选均不得分。）

1.西周时期，从政治上讲，一国无二君；从宗法上讲，一庙无二祭主。各级宗族成员，都要以各级“宗子”为中心，表示“尊祖”和“敬宗”。这

- A. 有助于形成家国一体的统治秩序      B. 有利于加强中央集权  
C. 保障了周天子天下共主的地位      D. 强化了对家族的认同

2.儒家思想经过不断发展，逐渐成为中国传统文化的主流。以下言论最能体现其适应加强中央集权需要的是（    ）

- A. “为政以德，譬如北辰，居其所而众星共(拱)之。”  
B. “以德兼人者王，以力兼人者弱，以富兼人者贫。”  
C. “诸不在六艺之科、孔子之术者，皆绝其道，勿使并进。”  
D. “我之出而仕也，为天下，非为君也。”

3.下图为全国出土先秦、秦汉时期铁制农具数量对比图。这表明秦汉时期

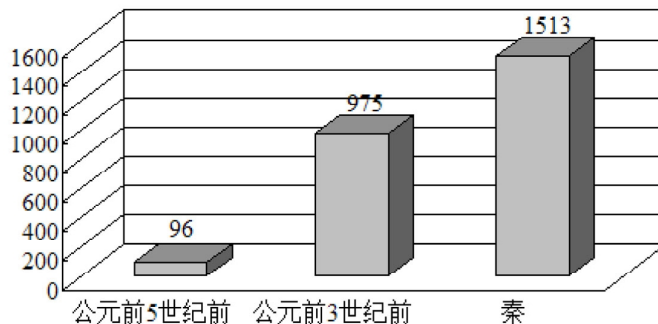


图 1 全国出土先秦、秦汉时期铁农具数量对比图

- A. 农业生产力发生质的变化      B. 铁制农具得到普及  
C. 精耕细作农业生产模式发展      D. 土地私有制的发展

4.关于右图汉长城说法正确的是



- ①汉武帝打败匈奴后开始大规模修筑
- ②是中国历史上最长的长城
- ③是代表当时军事工程建筑技术水平的杰作
- ④是汉王朝强大国力的体现

- A. ①②④
- B. ②③④
- C. ①②③
- D. ①③④

5.唐代均田令规定，官吏和勋官可以按照品级占有数量不等的官人永业田和勋田；还规定宽乡有剩田处可以占田过限。这些都给地主官僚多占田地提供了合法的根据。据此可知，唐初期

- A. 自耕农的数量急剧减少
- B. 均田授田以官僚为主要对象
- C. 客观上利于均田令推行
- D. 实行了不抑兼并的土地政策

6.传统社会流行一种说法，“开门七件事，柴米油盐酱醋茶”。晚明社会出现了“新开门七件事”，即谈谐（说笑话）、听曲、旅游、博弈、狎妓、收藏、花虫鱼鸟。这一变化反映了

- A. 理学思想的影响
- B. 市民阶层的壮大
- C. 专制制度的松弛
- D. 传统社会的瓦解

7.清人赵翼曾评价古代某官职说过：“官轻则爱惜身家之念轻，而权重则整饬吏治之威重”，下面关于该官职说法正确的是

- A. 使皇权达到顶峰
- B. 是帮助皇帝处理国政的助理机构
- C. 是皇帝的耳目和工具
- D. 参与国家政治中枢决策

8.昆曲是中国现存最古老、具有悠久历史传统的戏曲，被誉为“近代百戏之祖”，下面关于昆曲说法正确的是

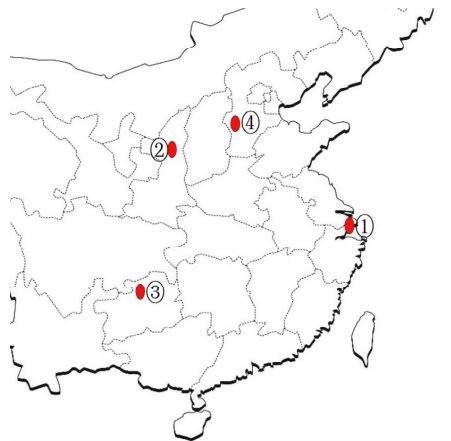
- ①昆曲的保护可追溯到1972年《世界遗产公约》
- ②《牡丹亭》有“昆曲之母”之称
- ③有中国戏曲特有的“离——合——离”戏剧结构
- ④京剧在剧目、声腔和表演艺术等方面与昆曲关系紧密

- A. ①②
- B. ②④
- C. ②③
- D. ①④

9.下图为《伦敦新闻画报》曾刊登的“一张奇怪的关于英国军舰的中国画”，画中是一位中国画家所画的一艘刚刚抵达香港的英国军舰，当时中国人称之为“火妖怪”，认为“必有邪教善术伏其内”。这表明



- A. 关注奇闻趣事是报刊选材重点      B. 英国政府较关注中国人的反应  
C. 将对手妖魔化便于战争的宣传      D. 华人受战争影响但仍愚昧落后
10. 19世纪80年代左宗棠在处理某边疆事务时，主张“为今之计，先折之以议论，委婉而用机，次决之以战阵，坚忍而求胜”。对材料解读有误的一项
- A. 该策略主要为抵抗俄国、交涉伊犁问题神墙而提出  
B. 此时英俄利用阿古柏侵略中国新疆的阴谋已宣告破产  
C. 1884年中俄《改订条约》签订，中国收回伊犁  
D. 政府在哈密建抗俄军事基地，为曾纪泽外交谈判提供军事支持
11. 清政府在某战争中的惨败彻底暴露了它的腐朽与虚弱，从此西方列强再也不把中国视为东亚“睡狮”，而把它视作可以任人宰割的猎物，并立即掀起了一片瓜分中国的叫嚣。这场“战争”
- A. 扭转了中外贸易逆差      B. 激起了维新变法运动  
C. 导致了社会性质转变      D. 揭开了清末新政序幕
12. 1948年5月至1949年3月，中共中央曾在太行山附近某地办公，指挥三大战役取得胜利。随后，召开了一次具有转折意义的重要会议。在这次会议上，毛泽东提出了“两个务必”的号召，要求全党在胜利面前要保持清醒头脑，在夺取全国政权后要经受住执政的考验。该地位于示意图中的



- A. ①                      B. ②                      C. ③                      D. ④

13. 从九一八第二天始，中国人民便走上了反抗的道路。九月间，上海有十万大中小学学生的大罢课，有三万五千日本码头工人大罢工……全国民众，尤其是城市的市民群众，热烈地参加了抵抗日货和禁止和日人交易的运动。广州及香港等地日商日厂所有的中国工人，自动一律停工，宁可挨饥受饿。这反映“九一八事变”后

- A. 中日民族矛盾已经上升为主要矛盾    B. 中国人民掀起了抗日救亡运动的高潮  
C. 中国共产党领导了全国的救亡运动    D. 全民族的抗日统一战线已经正式形成

14. 20 世纪初期，马克思主义作为一股新思想在中国传播，灾难深重的中国人民在长期的革命斗争中，经过反复的比较鉴别，终于选择了马克思主义作为自己的思想武器。下列项中，关于“马克思主义在中国传播”表述符合史实的有

- ①新文化运动中马克思主义作为一种新思潮开始在中国传播  
②十月革命后马克思主义开始在中国广泛传播  
③李大钊宣传马克思主义突出其战斗色彩  
④马克思主义广泛传播为中国革命提供了新的理论指南

- A. ①③④                      B. ②③④                      C. ①②④                      D. ①②③

15. 改革开放以来，中国坚持奉行独立自主的和平外交政策，积极开展以联合国为中心的多边外交，下列不属于以联合国为中心的多边外交的是

- A. 中国成为粮农组织成员国                      B. 举办亚太经合组织第九次领导人会议  
C. 中国成为国际原子能机构成员国                      D. 中国恢复在世界银行的合法代表权

16. 公元前 7 世纪以前，古希腊哲学家主要是通过传说获得天地万物的知识；到公元前 6 世纪，很多哲学家关注自然界、物质世界、世界的本原等问题；到公元前 5 世纪，哲学家们开始关注人生和社会问题，弘扬人的主体性和主体地位。从这一历程可知，古希腊

- A. 历史演进与哲学嬗变同步                      B. 哲学家的嬗变与时代环境密切相关  
C. 哲学家“神圣不可侵犯”                      D. 哲学家放弃了对物质世界的研究

17 如图是德国牧师、制图师马丁·瓦尔德泽米勒于 1507 年绘制的地球仪月形图，采用木板印刷出版；与此同时出版了《宇宙志导论》，教学生如何使用世界地图，成为当年的畅销书。上述信息可以用来说明当时





- A. 二月革命后出现两个政权并存的局面
- B. 苏维埃政权面临协约国武装干涉的威胁
- C. 两个政权对是否继续参与一战矛盾尖锐
- D. 两个政权在十月革命中夺权斗争激烈

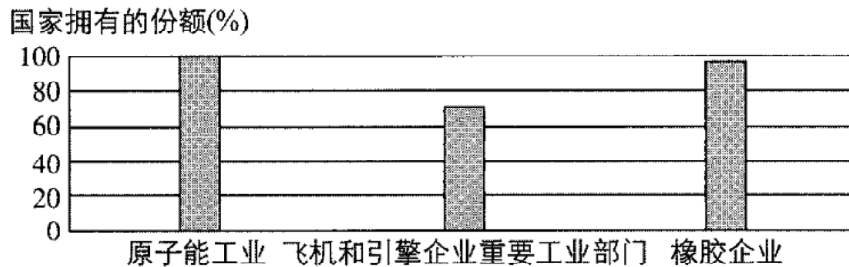
22. 如表所列是哪一战争统计数据

国家	德国	法国	奥匈帝国	英国
死亡人数	2037000	1398000	1100000	921000

- A. 拿破仑战争
- B. 普法战争
- C. 第一次世界大战
- D. 第二次世界大战

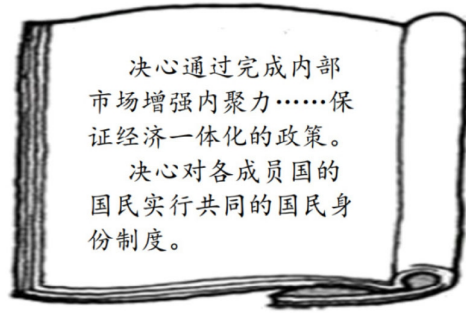
23. 阅读下图。该示意图说明，当时的美国

1945年，美国重要工业部门中国家所拥有的份额示意图



- A. 国有企业达到相当高的水平
- B. 国家垄断资本主义得到发展
- C. 干预经济主要以国有化实现
- D. 经济体制仍然是典型私有制

## 24. 下图条款内容出自



- A. 《慕尼黑协定》  
B. 《联合国宣言》  
C. 《北大西洋公约》  
D. 《马斯特里赫特条约》

25. 1927年, 时任中共江苏省委书记的陈延年被国民党逮捕、杀害。关于他被杀的真相扑朔迷离, 以下是一些有关史料。史料一: 陈延年被捕后, 国民党并不知道他的身份, 中共地下党委托亚东图书馆经理汪孟邹营救, 汪则托朋友胡适, 不料胡适坐车到吴稚晖(国民党元老)家告密, 遂导致陈于7月4日被杀。史料二: 国民党的档案中杨虎给蒋介石的密信显示陈的被捕是因为奸细告密, 被杀的时间是6月2日。史料三: 《胡适日记》和当时报刊显示胡适不可能见到吴稚晖, 研究者推测, 胡适告密说源于20世纪50年代中国大陆对胡适的批判。关于上述材料的正确说法是:

- A. 史料越丰富, 历史真相越明朗  
B. 史料一和史料二可以相互印证  
C. 史料收集固然重要, 但考辨更不可少  
D. 历史研究应先确立正确的立场, 再以此收集史料

## 二、非选择题(本大题共4小题, 第26题10分, 第27题10分, 第28题15分, 第29题15分, 共50分)

26. 以马列主义为指导, 结合国情, 形成具有中国特色的革命和建设道路是中共发展的重要原因, 阅读下列材料, 回答问题。(10分)

材料一: 他们似乎认为在距离革命高潮尚远的时期做这种建立政权的艰苦工作为徒劳, 而希望用比较轻便的流动游击方式去扩大政治影响, 等到全国各地争取群众的工作做好了, 或做到某个地步了, 然后再来一个全国武装起义, 那时把红军的力量加上去, 就成为全国范围的大革命。他们这种全国范围的、包括一切地方的、先争取群众后建立政权的理论, 是于中国革命的实情不适合的。他们的这种理论的来源, 主要是没有把中国是一个许多帝国主义国家互相争夺的半殖民地这件事认清楚。

——摘自毛泽东: 《星星之火, 可以燎原》

材料二 这次全会坚决批判了“两个凡是”的错误方针，充分肯定了必须完整地、准确地掌握毛泽东思想的科学体系；高度评价了关于真理标准问题的讨论，确定了解放思想、开动脑筋、实事求是、团结一致向前看的指导方针；果断地停止使用“以阶级斗争为纲”这个不适用于社会主义社会的口号，作出了把工作重点转移到社会主义现代化建设上来的战略决策；……

——摘自《关于建国以来党的若干历史问题的决议》

(1) 根据材料一和所学知识指出毛泽东主张的革命道路及其形成的背景。(5分)

(2) 根据所学知识指出材料二为什么高度评价真理标准问题的讨论？该决议如何体现邓小平在新时期作出的重大历史贡献？(5分)

## 27. 阅读材料，回答问题。(10分)

材料一 拿破仑认为，法国发生革命不是因为法国渴望自由，而是因为要求平等。他所了解的平等是法律上所保证的同样的公民权利，而不是公民生活的同样的社会经济条件。因此他就决定用自己的法典确保公民权利的平等。……他消灭了政治自由，把他所了解的“平等”巩固下来，编成了法典。

——(苏联) 塔尔列《拿破仑传》

材料二 戴高乐执掌政权后，立即将这些他一贯重视的想法运用到经济当中。但是，根据不同的形式，他也不得不对他的政策进行调整，补充新的内容。在战争期间和解放的初期阶段，戴高乐采取了国家指导的政策，即只有国家对经济的干预才能保证被战争摧残的国家的重建。早在1944年，社会党抵抗运动成员就在全国抵抗运动委员会的章程中制定了解放后必须实施的措施，其中包括：对银行、保险公司和一些工业集团(尤其是雷诺等曾经和占领国合作过的企业，以及法国电力公司EDF等大型企业)实行国有化；制定多年经济计划(1946年1月3日)，确立未来几年的经济目标。

——《戴高乐和经济：戴高乐将军的经济观》戴高乐基金会

(1) 根据材料一，结合所学，用史实说明拿破仑是如何“消灭政治自由”和“确保公民权利的平等”，并对其进行简要评述。(5分)

(2) 阅读材料二，概括戴高乐的经济主张。结合所学知识，分析说明二战后法国资本主义经济发展模式及特征。(5分)



28. 明清故宫作为世界上规模最大、保存最完好的古代皇宫建筑群，见证了人类文明在不断的“超越性”中前行。阅读材料，回答问题。（15分）

### 材料一

人类应该建设一个“理想的家园”，这个家园应该是具有某种“超越性”的“家园”，……换言之，“应该”是具有某种“神性”或可以与“天上的家园”形成某种“映射关系”的“家园”。这就是说，“理想”的“地上”“家园”同时也“应该是”可以从“大地”“升华到”“天上”的“家园”。在工程技术不断发展的过程中，在人类精神不断反思的过程中，在人类社会不断发展的过程中，人类愈来愈深刻地认识到人类神墙绝不能“堕落”为“仅仅”是一种“物质性的存在”，人类必须具有一定的“超越性”。

——引自汝信、李惠国《中国古代科技文化及其现代启示》

### 材料二

设置于紫禁城隆宗门内的军机处为清朝的行政总汇，雍正年间本由内阁分设……军机处其地至要，其弊极少，较诸汉相国府、唐之中书门下、宋之三省、明之内阁，有利无弊，尽善尽美。军机大臣例司缮写谕旨，其权一归于上。自设军机处，名臣贤相不胜指屈，类皆小心敬慎，奉公守法，其弊不过有庸臣，断不至有权臣……大抵天下之权，惟皇上可以操之，非臣下所宜擅也。

——故宫博物院明清档案部汇编《清末筹备立宪档案史料·上》

### 材料三

1912年2月12日，清朝皇帝爱新觉罗·溥仪于宣统三年十二月二十五日在紫禁城颁布退位诏书，“仍合满、汉、蒙、回、藏五族完全领土，为一大众化民国”。1912年3月8日，中华民国临时参议院通过了宋教仁起草的《临时约法》，于3月11日公布实施，从而在法律上实现了资产阶级革命派追求的“揖美追欧，旧邦新造”政治理想。

——陈旭麓《近代中国社会的新陈代谢》

(1) 阅读材料一，并结合所学知识，从紫禁城名称的由来出发，指出其具有“超越性”的表现。

(4分)

(2) 阅读材料二，结合所学，指出雍正即位前后日常政务处理地点的变化，以军机处为例扼要分析说明“大抵天下之权，惟皇上可以操之”这一历史现象。(6分)

(3) 请阅读材料并结合所学，选择一种作答：①指出“旧邦新造”所遵循的原则及权力运行机制。(5分)？②有学者提出，“故宫显现了儒家礼制在君臣关系中的表现”。试以午门为例，对此予以说明。(5分)

29. 电影和电视是当今世界年轻的艺术，他们的诞生和发展与时代的进步息息相关。阅读材料，回答问题。（15分）

材料一：爱迪生见电影业有利可图，决心不让别的公司染指。他迫使一些竞争者与其联合组成一家新公司，并想以此来控制电影在美国的生产和发行。新公司取名电影专利公司。伊斯曼·柯达曾一度参与了这项计划，拒绝向那些不交纳执照费的制片人出售胶片。爱迪生的企业联合组织，实际上是给美国电影界加上了一个严格的控制，参加的制片商每洗印一英尺的拷贝须缴付半分钱给托拉斯；发行商每年须交纳5000美元的执照费；一个放映商每星期要交付5美元。这些收入给托拉斯每年带来了将近100万美元的利益，而这种贡金的根据不过是因为爱迪生的实验室在1889年至1894年这段期间发明了所费总共也不到2万美元的东西而已。

——改编自必修三

材料二：1940年的《大独裁者》是卓别林的第一部有声电影。影片刻画了一个残酷迫害犹太人，企图统治全世界的大独裁者。卓别林通过表演对大独裁者进行了辛辣的讽刺，并在片末的演讲中说出了他的心声：“独裁者会死去，他们从人民手里夺去的权利即将归还人民。”《新世纪周刊》曾评价：肥裤子、破礼帽、小胡子、大头鞋，再加上一根从来都不舍得离手的拐杖，卓别林用他的表情和动作将美国默片带到最高峰。

——摘编自盛瑞祥《每天了解一个人——查理·卓别林》

材料三：据统计，20世纪80年代，在巴黎收看的六个电视频道每年总共播放1300部电影和电视剧，其中1000部来自美国，美国电影占法国影院票房收入的60%以上。法国人引以自豪的法式大餐受到麦当劳快餐的冲击，巴黎高档时装难以与西部牛仔服为敌，香槟酒让位于可口可乐，古典歌剧和芭蕾更是难以抵御“摇滚”和“霹雳”。

对此，法国前总统雅克·希拉克曾大声疾呼：“我们国家的前途处在危急关头——既然我们热爱这个国家，我们就要保存它的独特性、它的根和它的传统，并把这些世代传下去。”

——王晓德《美国文化与外交》

(1) 根据材料一并结合所学知识，指出爱迪生的电影专利公司的性质，并概括该类公司产生的原因。（4分）

(2) 根据材料二并结合所学知识，指出卓别林在电影史上的地位，并归纳电影《大独裁者》首映年希特勒“残酷迫害犹太人，企图统治全世界”的表现。（5分）

(3) 根据材料三并结合所学知识，列举法国人推动影视艺术兴起的表现，并概括影视艺术对人类社会的影响。（6分）

2020 学年第二学期镇海中学模拟试题

高三年级历史学科参考答案

一、选择题（本大题共 25 小题，每小题 2 分，共 50 分。每小题列出的四个备选项中只有一个是符合题目要求的，不选、多选、错选均不得分。）

ACDBC      BABDC      BACDB      DABCD      CCBDA

二、非选择题（本大题共 4 小题，第 26 题 10 分，第 27 题 10 分，第 28 题 15 分，第 29 题 15 分，共 50 分）

26（1）道路：农村包围城市、武装夺取政权。（1 分）

背景：中国半殖民地半封建的国情；国民革命失败；中共领导武装反抗国民党的统治，照搬俄国经验，结果失败；以毛泽东为代表的共产党人创建农村革命根据地的实践。（4 分）

（2）原因：冲破了长期以来形成的僵化局面，极大解放了人们的思想，推动了党的指导思想和各条战线的拨乱反正。（3 分）

贡献：既科学评价了毛泽东的历史地位，又维护了毛泽东思想。（2 分）

27.（1）“消灭政治自由”：1804 年建立法兰西第一帝国；政治上剥夺人民的民主权利，取消出版、言论自由，取缔党派，迫害工人。（2 分）“确保公民权利的平等”：颁布《拿破仑法典》（1 分）

评述：独裁专制统治是拿破仑帝国灭亡的原因之一；《法典》把革命时期有利于资产阶级的成果用法律条文确定下来。（2 分）

（2）①主张：实行国有化；实行经济计划化。（每点 1 分，答出两点得 2 分）②模式：计划指导性经济模式。（1 分）特征：计划与市场相结合、国有企业与私人企业共存。（2 分）

28.（1）紫微星位于中天，为众星所环绕，是天帝居住之地，称为“紫宫”；皇帝为天子，其宫殿也称为“紫宫”，因不许百姓靠近，也称为神墙“紫禁城”。（4 分）

（2）中心：从乾清宫到养心殿（2 分）

现象：军机大臣均由钦定，只能秉承皇帝旨意办事；机构简单，人员精干；有官无吏；地处内廷，外界干扰少；政治决策封闭。（4 分，任意四点即可）

（3）选择阐述①原则：立法、行政、司法三权分立。（1 分）运行机制：参议院行使立法权；临时大总统及国务院行使行政权，实行责任内阁制；司法权由法院独立行使。（4 分）

选择阐述②。午门正中一门为皇帝专用，文武大臣和宗室王公分别由东、西两门进出。（3 分）午门

之上有一座门楼，面阔九间，进深五间，意在显示“九五至尊”的威严。（2分）

29（1）性质：垄断公司（1分）

背景原因：第二次工业革命极大地提高了人类的生产效率和生活质量；伴随工业的大发展，生产和资本高度集中，产生了垄断组织；资本家试图通过垄断赚取高额利润。（3分）

（2）地位：“默片时代”的代表人物，喜剧大师/奠定了现代喜剧电影的基础（2分）

表现：1940年春，德国纳粹开始在奥斯威辛建造集中营用于迫害犹太人；（1分）

1940年4月开始，先后攻占丹麦、挪威、荷兰、比利时、法国；1940年7月，下令执行入侵英国的“海狮计划”（发动不列颠空战）；1940年9月，正式结成德意日三国军事同盟等。（任意两点2分）

（3）表现：卢米埃尔兄弟放映了人类第一部电影；赛列克是第一个提出“电视”这一名称。（4分）

影响：影视艺术日益成为人们日常生活中不可缺少的重要组成部分，对人们的日常生活以及国家乃至世界的政治、经济、文化等产生了重要影响。（2分）