

# 2023 学年第一学期台州名校联盟试题

## 高三年级历史学科

命题：北师大台州附中

温岭中学

审核：台州一中

考生须知：

1. 本卷满分 100 分，考试时间 90 分钟；
2. 答题前，在答题卷指定区域填写学校、班级、姓名、试场号、座位号及准考证号。
3. 所有答案必须写在答题卷上，写在试卷上无效；
4. 考试结束后，只需上交答题卷。

### 选择题部分

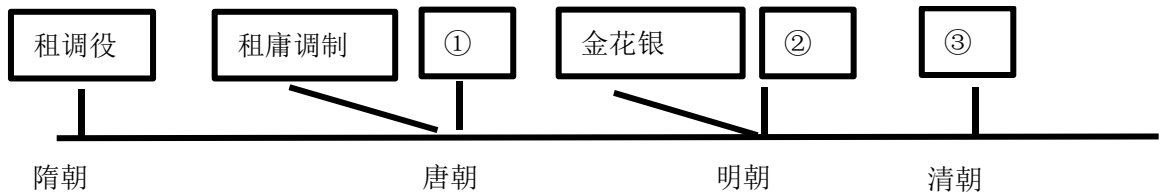
一、选择题 I（本大题共 15 小题，每小题 2 分，共 30 分。每小题列出的四个备选项中只有一个是符合题目要求的，不选、多选、错选均不得分）

1. 青浦崧泽遗址是上海地区最早的人类居住地之一，距今约 5800 年—5300 年，对研究中国早期文明起源、长江下游地区新石器时代文化具有重要意义。在遗址中出土了一只古朴可爱的陶塑家猪，据此判断该地区  


A. 私有制已经产生，阶级分化较明显  
B. 当时人们大量使用陶器、饲养家畜  
C. 在一定地域范围内过着迁徙的生活  
D. 初步改变了对自然资源的纯粹依赖
2. 春秋战国是思想和文化最为辉煌灿烂、群星闪烁的时代。这一时期出现了诸子百家彼此诤难，相互争鸣的学术局面，在中国思想发展史上占有重要的地位。下列言论出自战国时期的是  
A. “保天下者，匹夫之贱与有责焉”  
B. “人法地，地法天，天法道，道法自然”  
C. “法行而君不必忧……民但而守法，上下无为而天下治”  
D. “为天地立心，为生民立命，为往圣继绝学，为万世开太平”
3. 汉代往往在新皇帝即位或遇到大灾荒时，政府下诏希望地方推举贤人，来替国家做事。这样选举来的人称为贤良。选到政府后，照例由政府提出几个政治上重大的问题，向他们请教，叫做策问。政府看了他们的意见，再分别挑选任用。这一种选举，既不定期，也无一定的选举机关。据此判断  
A. 贤良为官途径是先推举后考试  
B. 此选举方式应属于察举制特科  
C. 汉代人才选拔主要看舆论评价  
D. 贤良是当时选官制的重要补充
4. 宋朝（960 年—1279 年）是中国历史上承五代十国下启元朝的中原王朝，分北宋和南宋两个阶段，共历十八帝，享国三百一十九年。有学者称赞“华夏民族之文化，历数千载之演进，造极于赵宋之世”。以下史事不能佐证此观点的是  
A. 科举制取消了报名资格限制  
B. 儒学复兴，形成程朱理学  
C. 书院兴盛推动了私学的发展  
D. 科技发展迅速，高度繁荣
5. 明朝是汉族地主阶级建立的中国最后一个封建王朝。社会经济发展超过宋元时代的最高水平，并从中酝酿着新旧交替的冲动。以下关于明朝表述正确的是

- A. 实际人口数开始超过 1 亿
- B. 番茄被作为食用蔬菜种植
- C. 资本性借贷和庄票均出现
- D. 出现民间通信机构民信局

6. 古代的赋役除田赋外，还有人头税、徭役等。从唐朝到清朝，赋役征发逐渐转到向土地和财产征税，人头税逐渐被废除。图中①②③处填写正确的是



- A. ①两税法                      ②科差                      ③一条鞭法
- B. ①两税法                      ②一条鞭法                  ③摊丁入亩
- C. ①两税法                      ②摊丁入亩                  ③科差
- D. ①科差                        ②一条鞭法                  ③摊丁入亩

7. 在某次中共会议上，毛泽东主持了开幕会议，并代表中央政治局作了重要报告。毛泽东还说，“此次会议是城市工作会议，是历史的转折点。”这是对此次会议的内容和历史地位的精辟论述。此次会议

- A. 召开于三大战役完全胜利后
- B. 总结了国民革命失败的教训
- C. 通过了《抗日救国十大纲领》
- D. 是社会主义道路的成功探索

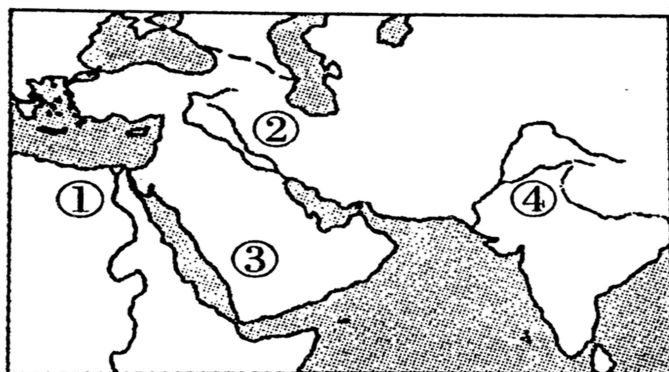
8. “2023 吴淞口论坛”发布：首艘国产大型邮轮“爱达·魔都号”将于 2024 年 1 月 1 日从上海吴淞口国际邮轮港启航，正式开始商业运营。该邮轮的建成交付有助于提升中国造船业的影响力和国际竞争力。回顾中国近代以来造船工业的发展史，下列表述正确的是

- A. 19 世纪 60 年代，以内燃机为动力的“黄鹄号”试航成功
- B. 1872 年，官督商办的民用企业轮船招商局在上海正式成立
- C. 1960 年，中国自行设计、建造的“东风号”远洋货轮下水
- D. 20 世纪 90 年代，中国造船企业正式进入了世界造船市场

9. 2006 年 9 月，联合国世界粮食计划署发表的《2005 年度国际粮食援助监测报告》显示，2005 年中国共对外提供了 57.7 万吨粮食援助，占当年全球粮食援助总量的 6.9%，仅次于美国和欧盟。这表明


- A. 我国已经实现粮食基本自给
- B. 统筹粮食资源可确保人类共同消除饥饿
- C. 各国政府都很关注食品安全
- D. 中国成为维护世界粮食安全的重要力量

10. 世界不同地区形成了多元而又各有特色的文化与文明。下图，地域、文化成就及特征对应正确的是



- A. ①—《历史》一开创了叙事体的撰史题材
- B. ②—《伊戈尔远征记》一反映斯拉夫民族历史
- C. ③—《医典》一被欧洲用作医学的标准教科书
- D. ④—《罗摩衍那》一目前所知世界最早的史诗

11. “12 世纪，他们（印加人）在库斯科谷地定居下来，不久便统治了这个地区。在早期阶段，他们的战争首领逐渐建立起一个王朝……世袭王朝和贵族阶层相结合，构成了建立帝国的有效工具。由于一代一代的国家首领的杰出才能，他们的帝国特别强大。”以下实物在“他们”的帝国最有可能出现的是



12. 13 世纪，伦敦的马修修士在他编纂的《英国编年史》中写道：“他们就像成群的蝗虫扑向地面，彻底劫掠了欧洲东部，焚烧与屠杀使这里变成一片废墟……他们铲平城市……推倒堡垒……屠杀市民和农民。”以上材料反映的历史事件

- A. 控制了亚欧的商路，东西方之间的贸易受到一定影响
- B. 促使希腊文化与西亚、北非等地的文化相互影响交融
- C. 融合了东西方文化遗产，成为东西方文化交流的桥梁
- D. 给被征服地区带来灾难，但客观上推动了东西方交流

13. 马克思指出，“工厂法关于所谓教育的条款措辞草率，由于缺少行政机构，这种义务教育大部分仍然徒有虚名。工厂主反对这个教育法令，使用种种阴谋诡计回避这个法令……这一切明显地暴露出资本主义生产的精神”。对此理解最准确的是


- A. 英国通过立法等方式推行初等教育
- B. 教育法令没有配套的机构保障实施
- C. 立法及实施没有有效保护工人利益
- D. 工业革命后西方政治制度逐渐完善

14. 在人民网历次的全国两会调查中，“社会保障”多次进入十大热词榜单，社会保障制度的建立对于促进社会的公平正义、国家的和谐稳定，以及人与人之间的平等发展具有重要意义。以下关于社会保障发展的表述正确的是

- A. 工业革命期间，英国颁布了济贫法，其他国家纷纷仿效
- B. 二战后，美国率先构建社会保障体系，实现了全民覆盖
- C. 苏联实行全民社会保险制度，个人一律无差别享有保险
- D. 1951 年 2 月，政务院发布了新中国第一部社会保险法规

15. 对右图反映的历史信息解读正确的是

- A. 赫鲁晓夫的改革已经取得巨大成就
- B. 坚持科技发展重心倾斜到国防领域
- C. “新经济体制”完全突破苏联模式
- D. 苏联实行战略收缩，美苏关系缓和



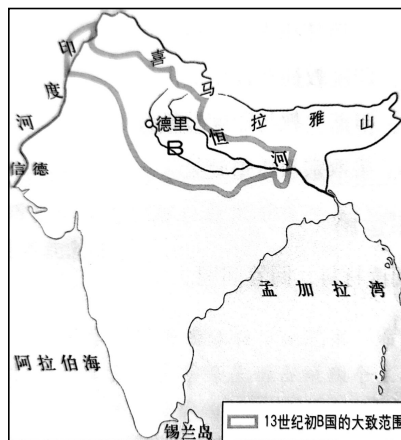
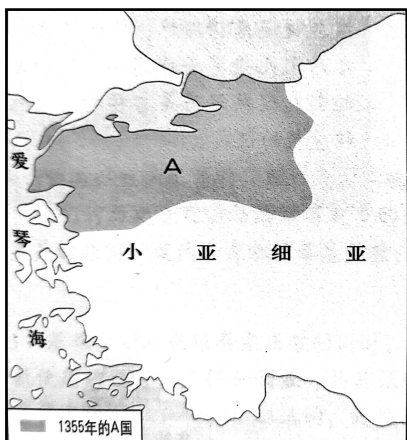
▲20 世纪 70 年代即将发射的苏联火箭

二、选择题II(本大题共6小题,每小题3分,共18分。每小题列出的四个备选项中只有一个是符合题目要求的,不选、多选、错选均不得分)

16. 理藩院负责管理蒙古、西藏、青海、回部(清朝对新疆天山南路的通称)各藩部。理藩院所管理的“藩”与明朝朝贡体系中的外藩是不同的。外藩并不属于中国,但是清朝的“藩”属于自己政权体系的一部分。这种思维和过去各个王朝用羁縻、封赏、和亲的间接方式控制草原势力的做法,有着根本的区别。清朝对蒙古、西藏、青海、回部的管理对应正确的是

A	盟旗制度	金瓶掣签	改土归流	奴儿干都司
B	乌里雅苏台将军	驻藏大臣	西宁办事大臣	伊犁将军
C	单于都护府	会盟	行都指挥使司	护乌桓校尉
D	“九边”军镇	宣政院	北庭都元帅府	渤海郡王

17. 下为中古时期两个国家的疆域示意图。与下列两图所示疆域对应的A、B国家分别是



- A. 拜占庭帝国、笈多帝国  
 B. 奥斯曼帝国、笈多帝国  
 C. 奥斯曼帝国、德里苏丹国  
 D. 拜占庭帝国、德里苏丹国

18. 文化传承与保护的载体众多,其中学校在文化传承、科学研究、人才培养等方面发挥了重要作用。以下有关大学说法正确的是

- ①京师大学堂采取分科教育的方式,其建立是中国教育近代化的标志  
 ②法国拿破仑建立“大学区”制度,确立了保留至今的国民教育制度  
 ③1702年,牛津大学首次使用试卷对学生进行考试,给文官考试制度提供借鉴  
 ④德国人洪堡秉持“研究教学合一”的精神创办柏林大学,促成大学职能的转变
- A. ①②③  
 B. ①②④  
 C. ②③④  
 D. ①③④

19. 雅各布·范·杜因在《创新随时间的波动》中认为世界资本主义经济自工业革命以来经历了五轮长波周期,以下表格是他对这五轮长波周期进行的划分。解读下表可知

工业革命后世界资本主义经济周期表

	标志创新技术	繁荣期	衰退期	萧条期	复苏期
第一轮	纺织工业和蒸汽机	1782—1802年	1815—1825年	1825—1836年	1838—1845年
第二轮	钢铁和铁路技术	1845—1866年	1866—1873年	1873—1883年	1883—1892年
第三轮	电气和重化工业	1892—1920年	1920—1929年	1929—1937年	1937—1948年
第四轮	汽车和电子计算机	1948—1966年	1966—1973年	1973—1982年	1982—1991年
第五轮	信息技术和生物	1991—2002/2004年	2002/2004—?	?	?

- A. 资本主义经济波动呈现周期性特征且定期发生  
 B. 科技创新是促进资本主义经济发展的唯一动力  
 C. 第三轮萧条期加速世界大战阴霾再次笼罩世界  
 D. 第四轮周期内各国强化了经济干预与国际协调
20. 法西斯国家发动的第二次世界大战，经历了从局部战争逐渐发展到全球战争的过程。下列有关其过程的表述，不正确的是
- A. 1931年，日本制造九一八事变，拉开第二次世界大战序幕  
 B. 1937年，七七事变成为第二次世界大战在亚洲爆发的标志  
 C. 1939年，德国突袭波兰，英法对德国宣战，二战全面爆发  
 D. 1941年，德国入侵苏联，第二次世界大战发展到全球阶段
21. E 考据法要求研究者带着特定的问题意识，充分利用信息时代因特网和电子数字化资源普及的优势，运用考据学的方法对检索到的资料进行爬梳和分析，进而达到历史考证的目的。新技术的运用使得新一代历史工作者能够在很短时间内就掌握前人所未曾寓目的材料，弥缝过去未曾注意到的历史细节，从而比博闻强识的前辈们拥有了更加梦寐以求的学术环境。E 时代的史学考据正经历着突破传统考据学旧范式的“科学革命”。这表明
- A. 历史资料数字化提高了史料利用效率  
 B. 数字化史料丰富了史学家的研究目的  
 C. E 考据指的是历史学与考古学相结合  
 D. 大数据的应用改变了史料运用的原则

### 非选择题部分

三、非选择题（本大题共 3 小题，其中第 22 题 20 分，第 23 题 20 分，第 24 题 12 分，共 52 分）

22.（20 分）阅读材料，完成下列要求。

材料一

倭在韩东南大海中，依山岛为居，凡百余国……使驿通于汉者三十许国，国皆称王，世世传统……建武中元二年，倭奴国奉贡朝贺，使人自称大夫，倭国之极南界也。光武赐以印绶。

——《后汉书·东夷列传》



◀“汉委（倭）奴国王”金印及印文  
 此印 1784 年出土于日本，现藏于日本福冈市博物馆

材料二

1965 年 2 月，坦桑尼亚总统尼雷尔访华，请求中国援建坦赞铁路，并告诉中国领导人，这条铁路对于坦赞两国和其他正在争取独立的非洲国家的特殊意义。周总理明确表示，中国愿意援建坦赞铁路，“铁路建成后，主权是属于你们和赞比亚的”。对于援助非洲，毛泽东主席曾这样表示：“先独立的国家有义务帮助后独立的国家。”……坦赞铁路接轨通车并进行试运营，“把中国和非洲这两个各自寻求独立自主国际地位的地区紧紧地联系在一起”，成为非洲解放的“自由之路”和中非合作的“友谊之路”。

——摘编自刘鸿武、林晨《中非关系 70 年与中国外交的成长》



### 材料三

长期以来，广大发展中国家基础设施落后，严重制约了其经济的发展，而中国高铁具有运营里程、经验和建设成本领域的优势……中国高铁“走出去”，能够改善当地经济发展的基础设施环境，促进当地经济的发展，改变当地贫穷落后的面貌，有利于减少当地的贫困人口，为世界减贫事业做出了相应贡献……高铁属于低碳环保型交通工具，中国高铁及其相应装备“走出去”有利于降低能耗，降低全球气体的排放，也同样有利于彰显中国“负责任大国”形象……中国高铁出口将有力改变中国在对外贸易中的局面，促使中国从“制造大国”向“智造大国”转变，从而增强中国的国际影响力与国家软实力。

——摘编自施张兵《新丝绸之路时期的中国高铁外交研究》

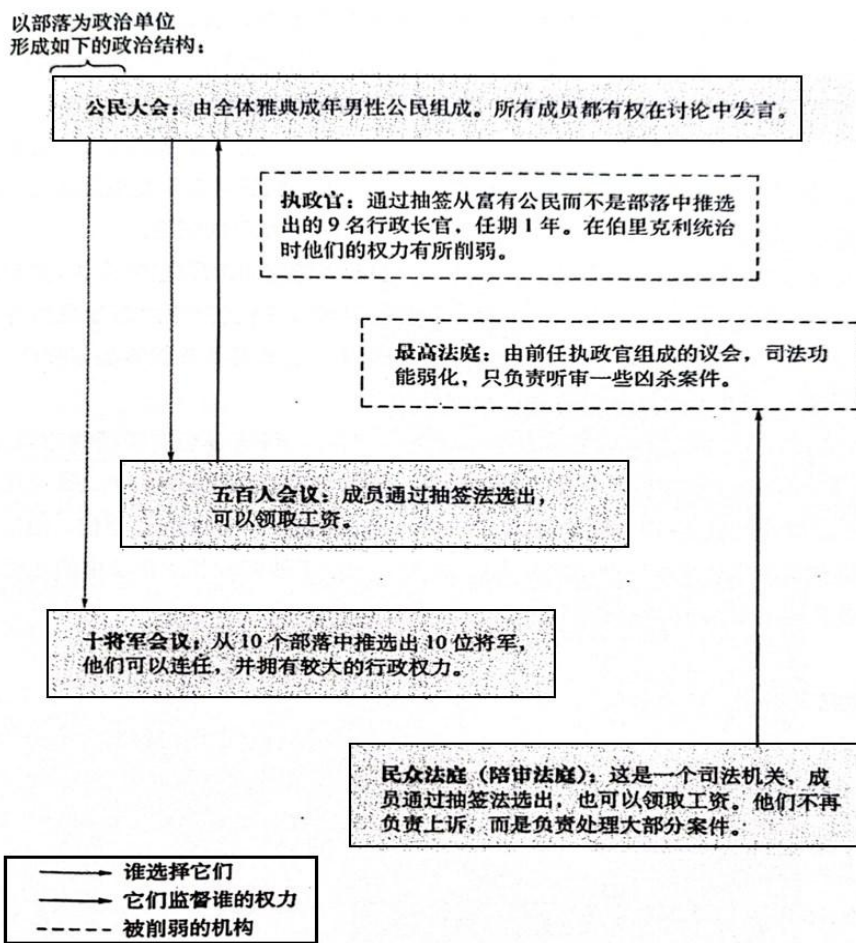
(1) 根据材料一，从史料载体的角度指出其史料类型，并分别分析其史料价值。(6分)

(2) 根据材料二，结合所学，概括援建坦赞铁路所体现的此时期中国外交政策的基本特点。结合所学，列举改革开放以来中非之间加强友好合作的重要举措。(5分)

(3) 根据材料三，概括中国高铁“走出去”的重要意义。结合所学，指出“中国国际影响力与国家软实力”在高铁领域的表现。(9分)

23. (20分) 阅读材料，完成下列要求。

### 材料一



### ▲伯里克利（公元前443—公元前429年连任“首席将军”）统治下的雅典民主制度

——摘自（美）丹尼斯·谢尔曼 乔伊斯·索尔兹伯里《全球视野下的西方文明史》

## 材料二

在英国革命中，王党阵营中几乎全是国教徒，议会阵营中几乎全是清教徒，所有支持国王的人都信奉国教，所有反对国王的人都不信奉国教……从社会成分看，革命阵营和反革命阵营是没有区别的，所以无论哪一派力量在战争中获胜，对社会来说都不会造成变化，原来那个社会都会被保存……英国通过一次不流血的宫廷政变即光荣革命完成了政治制度的改造，建立了一种完全现代意义的国家体制。

法国革命是横向地把社会切割开，因此如果王权和贵族这个阵营胜利，那么原有的社会结构会被保留，革命等于没有发生。可是如果第三等级胜利了，那么整个社会就都被颠覆了，将出现一个全新的社会。这意味着法国革命是一场社会阶层的殊死搏斗，要么全生，要么全死。而革命的结果恰恰是第三等级胜利了，于是出现一个全新的社会……后来第三等级又分开了，每一个阶层都有它的要求，于是在革命过程中，发生了一次又一次的暴力事件。

——摘编自钱乘旦《西方那一块土》

## 材料三

中国模式就是对人民共和国 60 年“成功之路”的理论解释，其基础是中华文明的延续性。中国模式主要包括三个子模式：“国民”经济，体现中国独特的经济模式，有国家政府的控制，也有人民群众的创新创业和自由流动；“民本”政治，体现中国独特的政治模式，主要包括以民为本的政治理念和为人民服务的政治行动；“社稷”体制，体现中国独特的社会模式，是联通家庭、社区（单位）和国家的精神纽带与社会组织形式。此外，中国还拥有深厚的外交传统，颇具特色的“中国外交模式”也是中国成功的重要原因。

——摘编自潘维《中国模式：解读中华人民共和国的 60 年》

- (1) 根据材料一中的示意图，概括伯里克利统治下雅典民主制度的特点。结合所学，写出希腊古典时代的代表性文学和建筑艺术成就各一例。（5 分）
- (2) 根据材料二，从阵营划分依据方面指出英国革命和法国革命的区别。结合所学，对英法等西方国家形成的“完全现代意义的国家体制”做简要评价，并指出英法两国体制的不同类型。（8 分）
- (3) 根据材料三，结合所学，简述我国古代民本思想的重要意义。结合所学，说明“中国独特的经济模式”在农村改革历程中的体现。（7 分）

24. (12 分) 阅读材料，完成下列要求。

时间	事件
1841 年	第一条从伦敦开往布莱顿的火车正式运行，到达布莱顿只需要两个小时
1853 年	霍乱第三次出现在英国各地，包括伦敦
1863 年	伦敦地铁正式运行
1865 年	伦敦的下水道工程初步完工，代表了当时最高建筑成就，甚至被称为“工业世界的七大奇迹”

有学者认为“一座伦敦城，半部英国史。”参考表格内容，提取关联信息，自拟题目，结合 19 世纪相关史实，写一篇历史小论文。(要求：立论正确，史论结合，逻辑清晰，表述成文)