

2023 学年第一学期浙江省四校联盟联考试题

历史学科

命题：浙江金华第一中学

考生须知：

1. 本卷满分 100 分，考试时间 90 分钟；
2. 答题前，在答题卷指定区域填写学校、班级、姓名、试场号、座位号及准考证号。
3. 所有答案必须写在答题卷上，写在试卷上无效；
4. 考试结束后，只需上交答题卷。

选择题部分

一、选择题 I（本大题共 15 小题，每小题 2 分，共 30 分。每小题列出的四个备选项中只有一个是符合题目要求的，不选、多选、错选均不得分）

1. 下图为陕西西安临潼姜寨聚落遗址复原图。该聚落



- A. 被誉为“华夏第一村”
B. 是河姆渡文化聚落形态的典型代表
C. 阶级分化已十分明显
D. 提供了较稳定和安全的生活环境
2. 里耶秦简户籍簿有释文：“东成户人士五夫，妻大女子沙，子小女子泽若，子小女子伤。”对此，学者们解读为：东成，为里名；户人，指户主；士五，是身份称谓，指无爵或免爵者；女子，即女性；大、小，为课役身份的标志；夫、沙、泽若、伤，均为人名。此秦简
- A. 作为秦朝征发赋役的重要依据
B. 印证秦朝基层治理实行里甲制
C. 说明秦朝以严刑峻法进行治国
D. 反映秦朝户籍登记制度已完备
3. 魏晋南北朝时期，尽管战火连绵，政局动荡，但社会各方面在曲折中仍有发展。下列关于这一时期“曲折发展”的叙述，正确的是
- A. 租调制开始实行并允许纳绢或布代役
B. 家训的教化功能得到重视并与法律合流
C. 当铺兴起并取得合法地位
D. 思想多元活跃并呈现儒佛道交汇融通景象
4. 下列图示为一位同学对中国古代某一朝代相关史实所做的整理笔记，共有四组。其中，


有误的一组是

第①组	第②组
※ 监察机构严密 ※ 边疆管理呈现与内地一体化趋向	※ 中书省总理全国政务 ※ 医学教学模型针灸铜人开始出现
第③组	第④组
※ 通向全国乃至境外的驿路交通网 ※ 棉花已经成为重要的经济作物	※ 传教士撰写的出使报告流传至今 ※ 纸币作为单一流通货币发行

- A. 第①组 B. 第②组 C. 第③组 D. 第④组
5. 翻译书籍对促进文化之间的交流、扩大文化的影响力，发挥着重要作用。下列组织机构，旨在培养翻译人才的有
 ①提督四夷馆 ②京师图书馆 ③京师同文馆 ④江南机器制造总局翻译馆
 A. ①③ B. ①④ C. ②③ D. ②④
6. 鸦片战争后的数十年间，清政府被迫签订了一系列不平等条约，国家陷入了内忧外患的严重局面，逐步沦为半殖民地半封建社会。下列项所摘条款内容出自《辛丑条约》的是
 A. “中国有新恩施及各国，应准英人一体均沾”
 B. “上谕将诸国人民遇害被虐之城镇停止文武各等考试五年”
 C. “日本臣民得在中国通商口岸、城邑任便从事各项工艺制造”
 D. “现定稍宽其禁，听商尊行纳税贸易，洋药准其进口”
7. 有学者认为：“北洋军阀时代既是乱世，也是富有创新精神的时代……可谓是黑中有亮，暗中有光。”下列项可作为该观点论证依据的是
 A. 孙中山提出文官考试思想 B. 早期民族资产阶级产生
 C. 北京大学成为学术研究的重镇 D. 通过谈判陆续收回关税自主权
8. 某班正在策划“新中国建设成就”展，有同学收集了下列四幅图片。若按时序进行布展，你认为排序正确的是



①



②



“杂交水稻之父”，中国工程院院士袁隆平主持的超级杂交水稻第四期亩产 1000 公斤



③

④

- A. ①②④③ B. ①④②③ C. ②①③④ D. ②①④③

9. 中国高铁第 0001 号司机李东晓回忆：“2008 年奥运会期间，多国元首、政要、运动员和游客坐我驾驶的列车 28 分钟往返□□两地，感受风驰电掣的中国速度。”文中“□□”处应为

- A. 京张 B. 沪嘉 C. 京津 D. 伊安

10. 下图是一件国王在祭祀时，用来调磨颜料化妆的调色板。其反面，那尔迈头戴象征上埃及的白冠，正击打敌人；鹰脚下的莎草表示被“鹰神”打败的尼罗河三角洲的居民。其正面，那尔迈头戴象征下埃及的红冠，和他的随从一起巡视战场；前方横躺着十具被斩首的敌人尸体。画面突出了主要人物，上方还有文字符号。据此，可能得出的结论有



- ①古埃及初步实现了统一 ②古埃及建筑艺术深受宗教影响
③古埃及人创造了独特的象形文字 ④古埃及法老拥有至高无上的地位
A. ②④ B. ①②③ C. ①③④ D. ①②③④

11. 它被认为是“有史以来世界上最成功的集权国家之一”；它修建的道路系统被誉为“新世界的罗马”；它最终倒在了殖民者的“枪炮”、“病菌”和“钢铁”下。“它”的标签还包括 浙考神墙750

- A. 使用结绳记事 B. 培育出甜高粱
C. 创造了 20 进制 D. 发明“浮动园地”

12. 下图为 1783 年版《牛顿的哲学原理》一书的封面图，其左上方像神一样坐在空中的是牛顿，右边是智慧女神拿着一面镜子，把牛顿头上射来的光线反射到地面，下面在反光中书写的是伏尔泰。图中的光线象征着



- A. 神权主义 B. 人文主义 C. 自由主义 D. 理性主义

13. 某一历史人物被黑格尔誉为“马背上的世界精神”，由于一次著名的战役而成为军事上的失败者，但又由于一部著名的法典成为了西方立法史中一座伟大的丰碑。这位“人物”及其立法“丰碑”是

- A. 查士丁尼和《罗马民法大全》 B. 格劳修斯和《战争与和平法》
C. 拿破仑和《法国民法典》 D. 罗斯福和《社会保障法》

14. 下表有关商贸形式创新对经济和生活的影响，叙述正确的有

	商贸形式创新	对经济和生活的影响
①	货币诞生	便利了商品交换，改变了人们的生活方式和观念
②	新型股份制贸易公司建立	为商人提供资金和信用，加速资本原始积累
③	首家百货公司开业	为人们提供大众化消费商品，促使茶叶开始进入欧洲市场
④	电子商务兴起	极大提高了商业效率，也便利了人们的生活

- A. ①② B. ①④ C. ②③ D. ③④

15. 有学者在论及 20 世纪上半叶某国现代化模式时指出：它不可能是一个自然的社会演变过程，外部形势决定它只能通过有计划的经济技术改造和学习世界先进，以迅速赶上先进工业国和适应世界环境。该国

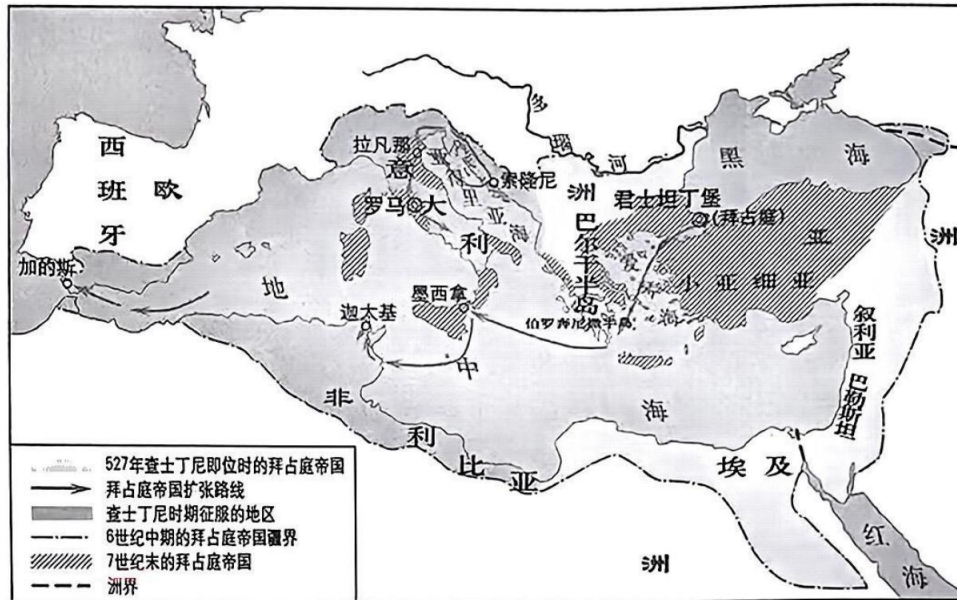
- A. 通过工业革命实现国家现代化
B. 曾取得与“大危机”形成鲜明对照的巨大建设成就
C. 在取得政治独立后努力探索符合本国国情的发展道路
D. 逐步建立社会主义市场经济体制

二、选择题 II（本大题共 6 小题，每小题 3 分，共 18 分。每小题列出的四个备选项中只有一个是符合题目要求的，不选、多选、错选均不得分）

16. 白居易有诗云：“国家定两税，本意在忧人。厥初防其淫，明敕内外臣：税外加一物，皆以枉法论。奈何岁月久，贪吏得因循。浚（压榨）我以求宠，敛索无冬春。织绢未成匹，缫丝未盈斤。里胥迫我纳，不许暂逡巡（延缓）。……昨日输残税，因窥官库门：缿帛如山积，丝絮似云屯。”对此解读，不正确的是

- A. 抑制苛捐杂税是两税法改革的题中之意
- B. 缴纳实物是唐代赋税征收的重要形式
- C. 吏治败坏对冲了赋税制度改革的部分成效
- D. 两税法的严格执行保证了国家的财政收入

17. 下图所示为某个世界大帝国版图的历史变迁情况。其中，从叙利亚到北非大片土地的丧失最有可能因



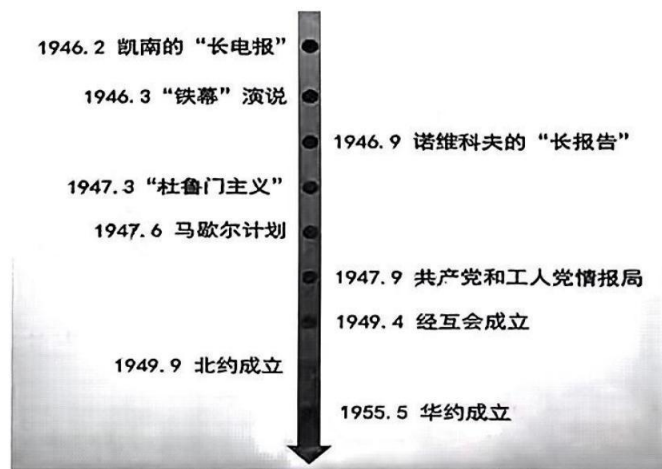
- A. 古罗马帝国的分裂
- B. 拜占庭帝国的建立
- C. 阿拉伯帝国的扩张
- D. 奥斯曼帝国的崛起

18. 十年，在历史的长河中，或许只是转瞬即逝的一刹那，但也可能是影响历史新进程的重要时刻。1927—1937年便是这样的十年，这十年

- ①政府统治呈现“新气象”
- ②中共革命开辟新道路
- ③国共关系打开新局面
- ④中华民族迎来新觉醒

- A. ①②③④
- B. ①②③
- C. ①③④
- D. ②④

19. 利用时间轴是历史学习的重要方法。下列有关冷战的时间轴，最能说明



- A. 冷战是纯粹的社会制度和意识形态上的对抗
- B. 两极格局是不对称和不完全的
- C. 两极格局的正式形成推动冷战的发生和发展

- D. 冷战在美苏不断的逐渐强硬的敌对互动中爆发
20. 人类学家弗朗兹·博厄斯认为：“人类的历史证明，一个社会群体，其文化的进步往往取决于它是否有机会吸取临近社会群体的经验。一个社会群体所获得的种种发现可以传给其他社会群体；彼此之间的交流愈多样化，相互学习的机会也就愈多。大体上，文化最原始的部落也就是那些长期与世隔绝的部落，因而，它们不能从邻近部落所取得的文化成就中获得好处。”在此，作者强调
- A. 社会群体的进步主要不靠内因推动 B. 文化交流对文明发展进步意义重大
C. 群体之间的影响是多样而且相互的 D. 发展滞后的群体亟需打破闭塞观念
21. 历史过程是不可逆的，史料是史学研究的基石，史料是通向历史认识的桥梁，没有丰富完善的史料，“大儒不敢开口，良史无从下笔”。下列关于史料运用原则和方法的说法，不正确的是
- A. 史料为史之组织细胞，史料不具或不确则无复史之可言
B. 史料的真伪或时代性未规定清楚，比缺乏史料更加危险
C. 考量古代历史文化，须以“地下之材料”补正“纸上之材料”
D. 一分材料说一分话，十分材料说十分话，没有材料不說話

非选择题部分

三、非选择题（本大题共3小题，其中第22题20分，第23题20分，第24题12分，共52分）

22. （20分）阅读材料，完成下列要求。

材料一

从先秦至两汉，中国本土哲学的本原追问，以“本末论”为基本方法，这种思维在解决经验世界中事物的存在之先问题上简洁有效，但也有难以克服的理论困难。对此，从玄学到佛教都做了许多探索，“体用”思想逐渐确立起来，这其中蕴含一种不同于传统经验性思维的形而上学范式，可以说是一种思辨性思维。但佛教“体用论”因其非实在性（即“缘起”之“空”）而难以与世物、人伦相兼容，这给理学留下了继续探索的空间，以“北宋五子”为主要代表的早期理学家集中展现了思维转型的理论自觉与努力。

——摘编自张恒《从“本末”到“体用”：理学与传统哲学思维之变》

材料二

本来中学有中学的“体用”，西学有西学的“体用”，即封建主义和资本主义有各自的“体用”，移花接木地把西方资本主义的“用”移到中国封建主义的“体”上来，这是近代中国特殊历史条件下的产物。这种结合曾经产生了某些有益的东西……这些，无疑是封建文化的异军，力量虽然有限，但终究给僵化的封建文化打开了缺口，促进了近代中国社会的新陈代谢。

——摘编自陈旭麓《近代史思辨录》

材料三

中华文明历经数千年而绵延不绝、迭遭忧患而经久不衰，这是人类文明的奇迹，也是我们自信的底气……经过长期努力，我们比以往任何一个时代都更有条件破解“古今中西之争”，也比以往任何一个时代都更需要一批熔铸古今、汇通中西的文化成

果……对文化建设来说，守正才能不迷失自我、不迷失方向，创新才能把握时代、引领时代。

——引自习近平《在文化遗产发展座谈会上的讲话》（2023年6月2日）

- (1) 根据材料一，概括在“中国哲学本原追问”方面，从“本末论”到“体用”思想所发生的嬗变。结合所学，分析理学家“思维转型的理论自觉与努力”对后世产生的深远影响。（8分）
- (2) 根据材料二，结合所学，指出使“某些有益的东西”得以“产生”的指导思想，并简要评述这一思想。（6分）
- (3) 习近平文化思想“明体达用、体用贯通”。根据材料三，结合所学，概括习近平文化思想的主要内涵。结合所学，简述我国社会主义精神文明建设的重大意义。（6分）

23.（20分）阅读材料，完成下列要求。

材料一

阿拉伯文化在世界文明史上具有重大的历史意义。当阿拉伯文化昌盛之时，西欧正处于文化低落的“黑暗时代”，古典文明这时已大半不为人所知，只有教会还保留着一些有关亚里士多德的知识。阿拉伯人将东方文化和古希腊罗马文化的译本，连同自己的文化成果输往欧洲，从而奠定了西欧新文化的基础。与此同时，阿拉伯人还在东西文化交流方面作出了巨大贡献，他们及其帝国无愧于“东西方文化交流的桥梁”之美誉。

——摘编自晏绍祥、李隆庆《世界通史（古代中世纪卷）》

材料二

十月革命在人类历史上的意义，从根本上说，是探索了一条经济文化不发达国家实现现代化的非资本主义道路。列宁提出的先夺取政权，然后在苏维埃先进制度的基础上赶上西欧文明，讲的正是这样一条道路。十月革命的胜利还直接推动了东方各民族解放运动的发展……它在东西方之间架起了一座桥梁，建立了一条新的反对帝国主义的战线，使民族解放运动成为世界社会主义运动的一部分。浙考神墙750

——摘编自黄宗良《十月革命的伟大胜利使社会主义从理论变成现实》

材料三

“一带一路”倡议是我国顺应世界经济全球化、区域经济一体化的时代大潮，构建全方位开放新格局、深度融入世界经济体系、实现经济转型升级与可持续发展，谋求与沿线国家共同发展、共同繁荣的宏大战略倡议；同时也是新时期我国践行“奋发有为的大国外交”，打造“紧密朋友圈”和“全球伙伴关系网络”，构建人类“利益共同体、责任共同体、命运共同体”，引领新时代全球治理、营造新型国际秩序的宏大战略布局。

——摘编自王海运《中国全球战略中的“一带一路”》

- (1) 根据材料一，结合所学，从促进欧洲文化进步的角度，阐释“阿拉伯文化在世界文明史上具有重大的历史意义”。结合所学，举例阿拉伯帝国与唐代中国之间的人员往来情况。（6分）
- (2) 根据材料二，结合所学，列举列宁对“经济文化不发达国家实现现代化”所进行的重大探索，结合中国20世纪二十年代的相关史实，说明十月革命“在东西方之间架起了一座桥梁”。（8分）

(3) “一带一路”是新时代中国与世界沟通的桥梁。根据材料三，结合所学，概括中国提出“一带一路”的战略考量，并写出新时代我国“奋发有为的大国外交”在杭州的生动体现。(6分)

24. (12分) 阅读材料，完成下列要求。

中外历史大事年表(部分)

时间	世界	中国
1492	哥伦布发现美洲新大陆	
1607		《几何原本》译成中文
1762	《社会契约论》出版	
1782	瓦特改良蒸汽机	
1789	法国大革命爆发	
1793		乾隆帝接见马夏尔尼使团
1840		鸦片战争爆发
1842		魏源写成《海国图志》
1848	马克思主义诞生	
1851		金田起义
1856		第二次鸦片战争爆发
1861		曾国藩上《复陈购买外洋枪炮折》
1866	西门子发明发电机	
1894		甲午中日战争爆发
1898		戊戌变法
1900		八国联军侵华
1911		辛亥革命
1914	一战爆发	
1915		《青年杂志》创刊
1917	十月革命胜利	
1920		中文全译本《共产党宣言》发表

选择上表中的部分内容，提取关联信息，围绕一个主题，并结合所学知识，写一篇历史小论文。(要求：题目自拟，立论正确，史论结合，逻辑清晰，表述成文)