

2017 年金华十校高考模拟考试

历史

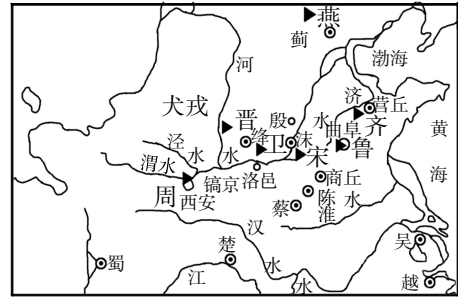
2017. 9

一、选择题(本大题共 30 小题,每小题 2 分,共 60 分。每小题列出的四个备选项中只有一个是符合题目要求的,不选、多选、错选均不得分)

1. 分封诸侯之制度肇始于西周。研读右图,可知 ()

- ①诸侯国主要集中于都城以东
- ②当时的神权与王权密切结合
- ③周文化形式覆盖黄河中下游
- ④同姓亲族多受封于边远地区

- A. ①④
- B. ②③
- C. ①③
- D. ③④



西周分封的重要诸侯国示意图

第 1 题图

2. 有北宋思想家称:“人心私欲,故危殆。道心天理,故精微。灭私欲则天理明矣。”该思想家是 ()

- A. 王守仁
- B. 程颐
- C. 朱熹
- D. 陆九渊

3. 明清时期是中国古典小说创作的繁盛时期。四大名著中,被誉为“一部为后人‘说不尽’的奇书”的是 ()

- A. 《三国演义》
- B. 《水浒传》
- C. 《西游记》
- D. 《红楼梦》

4. 准噶尔蒙古叛乱,世宗决定对其武装平叛。谕称:“两路军机,朕筹算者久矣。其军需一应事宜,交与怡亲王允祥……密为办理。”此处的“世宗”是 ()

- A. 明成祖
- B. 康熙帝
- C. 雍正帝
- D. 道光帝

5. 右图为近代《图画日报》上刊载的《上海社会之现象·妇女亦乘脚踏车之敏捷》的图文报道。该报道反映的历史现象,最早可能现于 ()

- A. 19 世纪中期
- B. 20 世纪初叶
- C. 20 世纪 20 年代
- D. 20 世纪 50 年代

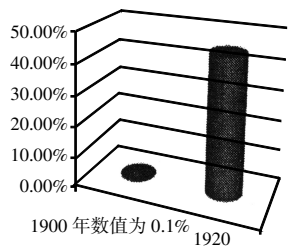


第 5 题图

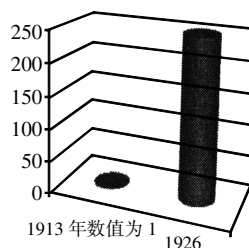
6. 1919 年前后,北京学生社团如雨后春笋般涌现,其中著名的有新潮社、国民社、少年中国学会等;在《新青年》的影响下,新式刊物如《新潮》《国民》等也纷纷发行。上述现象反映出 ()

- A. 五四运动唤起国人对政治的关心
- B. 马克思主义改变中国革命路径
- C. 思想的解放推动了新思潮的涌动
- D. 新文化运动促进了民众的觉醒

7. 下图反映了近代时期某地花生和烟草种植面积变化情况。这些数据反映出 ()



章丘地区花生种植面积占比变化



胶济铁路沿线烟草种植面积变化

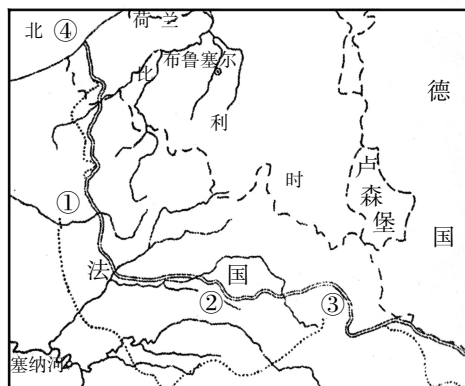
- A. 中国农业商品化程度提高
B. 西方列强疯狂掠夺原材料
C. 中国与世界市场密切联系
D. 该地农业生产力有所提升
8. 某抗日将领在 frontline 见闻录中写到：“日军南北夹攻，板垣、矶谷两个师团约五万人集结，战略意图在于徐州。……是役敌死伤一万一千多人，遂告成中外闻名的大捷”。这次“大捷”发生在（ ）
- A. 河北
B. 山东
C. 江苏
D. 山西
9. 史载：1948年9月至1949年1月间，解放军相继发动三大战役，皆获全胜，使国民党军队精锐尽失，只能凭长江之险，守上海、南京、武汉一线。“三大战役”的第一战是（ ）
- A. 渡江战役
B. 平津战役
C. 辽沈战役
D. 淮海战役
10. 右图漫画所反映的重大历史事件（ ）
- A. 反映了中国农村试图改革原有体制
B. 开创中国特色的社会主义革命道路
C. 体现国家经济建设方针的“左”倾
D. 标志着“文革”十年动乱的开始
11. “自本声明公布之日起，两国之间‘迄今为止的不正常状态宣告结束’；‘承认中华人民共和国政府是中国的唯一合法政府’，‘台湾是中华人民共和国领土不可分割的一部分’，并‘坚持遵循波茨坦公告第八条的立场’。”该声明的发表（ ）
- ①标志着中美关系开始走向正常化
②打开中日两国睦邻友好的新篇章
③推动了中日两国间经济技术交流
④为中国重返联合国奠定了基础
- A. ①④
B. ②③
C. ②④
D. ③④
12. 1997年9月，中国共产党第十五次全国代表大会召开。下列关于该次会议内容的表述，正确的是（ ）
- ①将“依法治国”写入宪法
②使经济体制改革目标和基本原则具体化
③首次使用“邓小平理论”概念
④指出公有制实现形式可以而且应该多样化
- A. ①②
B. ①③
C. ②③
D. ③④
13. 罗马法学家盖尤斯指出：“根据自然原因在一切人当中制定的法为所有的民众共同体共同遵守，并且成为万民法，就像是一切民族所使用的法”。此处，盖尤斯想表达的是（ ）
- A. 万民法、自然法都不是法律条文
B. 万民法是罗马法高度成熟的标志
C. 自然法具体条文体现在万民法中
D. 自然法精神指导了万民法的制定
14. 创作于14世纪初的一部文学作品，采用中世纪文学特有的幻游形式，作者作为一名活人对冥府进行了一次游历，其间赞颂了人的伟大，并率先揭露了教会的贪腐。该“作者”是（ ）
- A. 但丁
B. 薄伽丘
C. 彼特拉克
D. 莎士比亚



第10题图

15. 18世纪是法国的启蒙时代,涌现了伏尔泰、孟德斯鸠、卢梭等天才思想家。下列各项,属于他们的共同观点的是 ()
 ①否定君主专制 ②主张“主权在民” ③道出启蒙的真谛 ④提倡自然权利
 A. ①② B. ②③ C. ③④ D. ①④
16. “他们在非洲最南端的崖石上刻下了葡萄牙国王约翰二世的名字,以及葡萄牙盾形徽纹、十字架等,以纪念葡萄牙人探索新航路的一次突破”。上述事件发生在 ()
 A. 1488年 B. 1492年 C. 1498年 D. 1522年
17. 有学者这样描述某个国家的政治制度:“四个独立的政府机构——众议院、参议院、总统和最高法院——将通过不同的方法被选定,他们的任期各不相同。普选产生的众议院受制于以下几种东西:对选举权的限制、两院制、总统否决权和最高法院。”这个国家是 ()
 A. 美国 B. 英国 C. 法国 D. 中华民国
18. 1824年,英普条约规定两国船只在彼此的港口中所征关税平等。法国拿破仑三世时期,奉行自由贸易政策,废除第一帝国以来的关税保护政策。1860年起,法国先后同英国、比利时和德国签订自由贸易条约。这些条约的签订,反映出 ()
 A. 联结世界经济的纽带已经形成 B. 国际经济交流基本准则的逐步确立
 C. 工业革命的影响超出欧洲范围 D. 工业革命为世界市场提供物质条件
19. 1905年9月,德国《物理学年鉴》发表了爱因斯坦的论文《论动体的电动力学》,标志着狭义相对论的创立。狭义相对论 ()
 A. 标志着一种全新的时空理论的诞生 B. 指出物质存在的空间是弯曲的
 C. 全盘否定了牛顿的经典物理学体系 D. 第一次指出四维时空的物质性
20. 罗斯福新政期间,美国出台了700多个法令,建立了几十个委员会和管理局,实现了国家对经济的直接干预。下列法令,按其出台的时间先后顺序排列,正确的是 ()
 ①《紧急银行法》 ②《农业调整法》 ③《联邦经济救济法》 ④《全国劳工关系法》
 A. ①②④③ B. ①③②④ C. ①③④② D. ④①②③
21. 一段关于二战前夕的记载这样写到:“西方领导人仍为先前张伯伦对苏联红军的战斗力、苏联领导人的动机和苏联邻国的反应所表露的怀疑和担心所困扰。同样,随着轴心国在西班牙、奥地利和捷克斯洛伐克的节节胜利,斯大林的疑虑也在不断增长。”上述情况 ()
 A. 导致四国达成《慕尼黑协定》 B. 推动苏德签署“互不侵犯条约”
 C. 反映出英国的大陆均势政策 D. 推动三国军事同盟的正式建立
22. 二战时期某宣言称:“[签字国政府]现在正对力图征服世界的野蛮和残暴的力量从事共同的斗争,兹宣告:1. 每一政府各自保证对与各该政府作战的三国同盟成员国及其附从者使用其全部资源,不论军事的或经济的。2. 每一政府各自保证与本宣言签字国政府合作,并不与敌人缔结单独停战协定或和约。”这一宣言 ()
 A. 标志着二战达到真正的世界规模 B. 表达了英美反对纳粹暴政的决心
 C. 说明英法等国开始放弃绥靖政策 D. 大大加强国际反法西斯整体力量
23. 有人把第二次世界大战分为四大战场:①西欧战场,②苏德战场,③太平洋战场,④北非战场。按各大战场开始转入反攻的先后顺序排列,正确的是 ()
 A. ③④②① B. ④③①② C. ③④①② D. ③①②④
24. 法布里斯·拉哈在《欧洲一体化史》中这样写到:“西欧国家通过北约把自己在军事上锚定在跨大西洋关系中,但与此同时,类似的组织在经济领域却不存在。”于是,西欧诸国 ()
 A. 接受马歇尔计划 B. 签署《巴黎条约》
 C. 成立“欧洲议会” D. 建立欧洲联盟

25. 某国际经济组织纲领称,该组织旨在“通过投资更好地用于生产事业的办法以协助成员国境内的复兴与建设……以及鼓励欠发达国家生产设施资源的开发”。该组织是 ()
- A. 欧洲联盟 B. 关贸总协定
C. 国际货币基金组织 D. 世界银行
26. 【加试题】司马迁秉“究天人之际,通古今之变”之意,成就了《史记》这一史学丰碑,引得后世史家争相仿效。这说明 ()
- A. 史家阅历决定其史识之境界 B. 史著的写作方法决定其影响
C. 儒家观念影响着史著的写作 D. 史著贯穿着史家对规律的把握
27. 【加试题】福建自古以来因其独特的地理位置备受中央政府重视。下列表述,正确的是 ()
- A. 秦王朝通过修筑灵渠征服了岭南地区,设置南海郡对福建进行有效管理
B. 康熙帝击败了盘踞福建的耿精忠叛乱,并于 1684 年设台湾府,归福建管辖
C. 鸦片战争后,福建的福州、厦门被迫开放,福建诞生了近代最早的民族工业
D. 改革开放后,福建有两个城市建立经济特区,成为对外开放的窗口和试验田
28. 【加试题】承志堂位于清新典雅的皖南古村落宏村。下列对承志堂的表述,不正确的是 ()
- A. 徽派古民居中建筑规模最大,雕刻艺术成就最高的古建筑
B. 整体布局清晰明确,布局讲究,装饰富丽堂皇,令人赞叹
C. 中线划分,有前厅、后厅和阁楼,宅院设有娱乐和服务性设施
D. 村内最大的祠堂,整个村落以其为中心布局设计,结构精巧
29. 【加试题】“人总是追求幸福的。而美德归根结底会给人带来好处,邪恶则总会给人带来坏处。”“如果勇敢不是基于知识和智慧,‘勇敢’到无法无天、无所畏惧,那就会变成‘鲁莽’这种罪恶。”下列人物,曾提出类似观点的是 ()
- A. 普罗塔戈拉 B. 亚里士多德
C. 苏格拉底 D. 莎士比亚
30. 【加试题】1914 年 9 月,在一场战役后,小毛奇向德皇威廉二世报告:“陛下,我们输掉了这场战争(按:指第一次世界大战)。”这场战役发生在右图中 ()
- A. ① B. ②
C. ③ D. ④



第 30 题图

二、非选择题(本大题共 4 小题,共 40 分)

31. 阅读材料,回答问题。(10 分)

材料一:唐代的丞相不是只有一个人,相权可谓是由集体领导,至少由代表皇帝的中书省、代表中央政府最高权力之一的尚书省和监督朝廷的门下省三省首长共同办事,从而形成了一个集体权力结构……这一集体领导体制自此在中国历朝延续,直至清代。

——许倬云《中西文明的对照》

材料二:或谓后之入阁办事,无宰相之名,有宰相之实也。曰:不然。入阁办事者,职在批答,犹开府之书记也。……吾以谓有宰相之实(者),今之官奴也。

——黄宗羲《明夷待访录》

(1)根据材料一和所学知识,指出唐代“集体权力结构”的运行机制,并结合史实说明这一机制在宋代是如何“延续”的。(6分)

(2)概括材料二中黄宗羲的主要论点,并结合明代的史实加以分析说明。(4分)

32. 阅读材料,回答问题。(10分)

材料一:在现有条件下,国家必须有计划和有调解地为经济确定目标并且提出方向性的经济政策原则。在这个意义上,国家的主动性就是而且应该是无可辩驳的。但进而想把企业家弄成官府意志的奴隶和单纯的执行机器,那就必然毁灭一切人格价值并剥夺经济界最宝贵的动力。

——(德)路德维希·艾哈德

材料二:20世纪90年代以来经济全球化的迅速推进,成为美国“新经济”发展的重要推动力量。1991年4月到2000年12月,美国经济运行实现了117个月的增长,是美国1854年开始有经济周期记录以来持续时间最长的一次扩张,也是美国进入新经济的标志。在这近十年的扩张中,美国经济的增长保持了较为平稳的态势,1992至1995年,国内生产总值的平均增长率为2.8%,1998年至2000年GDP的增长率分别达到了2.7%,3.5%和3.7%。

——杨芳《美国新经济的基本特征及成因分析》

(1)二战后联邦德国实行什么经济模式?结合材料一和所学知识,指出“国家的主动性”的主要表现。(4分)

(2)根据材料二和所学知识,指出美国“新经济”的主要特征,并分析其出现的主要原因。(6分)

33. 【加试题】选官制度是中国古代政治生态的重要环节。阅读材料,回答问题。(10分)

材料一:隋唐科举彻底打破了六朝以来“平流进取,坐至公卿”的不合理现象。……这种完全用考试的方法取代过去察举推荐的科举制度,成为选拔人才、任用官吏的主要渠道。……为了给应试者提供学习的条件,京师建立了在国子监指导下的学校系统。几千名学者和学生从各道进入长安,京师到处举办经史的讲习。教育领域的这种活跃气氛必然导致经学解释上的各种矛盾,结果,唐太宗不得不下令编撰正统的经籍注疏,为唐代的儒家经典教育奠定了基础。

——据《剑桥中国隋唐史》《中国科举制度研究》等资料整理

材料二:康熙皇帝,在清代诸帝中,是一个最喜欢研究学问的人。他非常善于学习和创新,尊重汉族文化传统。凡儒家经典,程、朱著作,乃至历代史书,无不研习。……一心想以古先圣贤及其学术来作厚风俗,正人心的工具。所用大臣多理学家,且都有卓特之行,扬名于一时。

——周谷城《中国通史》

(1)根据材料一和所学知识,指出“平流进取,坐至公卿”体现的是什么选官制度,并分析其“不合理”之处。概括科举制对当时文化教育事业产生的积极影响。(6分)

(2)根据材料二和所学知识,概括指出康熙帝是如何尊重汉族文化传统的,并分析上述举动起了什么作用。(4分)

34.【加试题】古希腊是西方文明的摇篮。阅读材料,回答问题。(10分)

材料一:公元前490年,在马拉松迎击来犯之敌波斯前,雅典司令官米太亚德对雅典士兵做了战前演说:“雅典将披上奴隶的枷锁,还是永远保持自由,关键在于你们。”雅典士兵群情激昂,为了城邦的独立奋勇杀敌,大败波斯军队。

——摘自人民版高中历史必修I

材料二:由于神庙成为城邦文化的城市与宗教核心,艺术和建筑在神庙上得到最高度的体现。这些神庙是受人尊崇的男女保护神的居所,如雅典卫城的帕特农神庙就是为雅典娜女神建造的。

——据《全球通史》等资料编写



雅典卫城复原图

(1)根据材料一和所学知识,指出“雅典士兵”的主要构成,并概括希腊城邦的特点。(5分)

(2)综合上述材料,指出雅典卫城最核心建筑的名称,并结合所学写出你的主要依据。(5分)